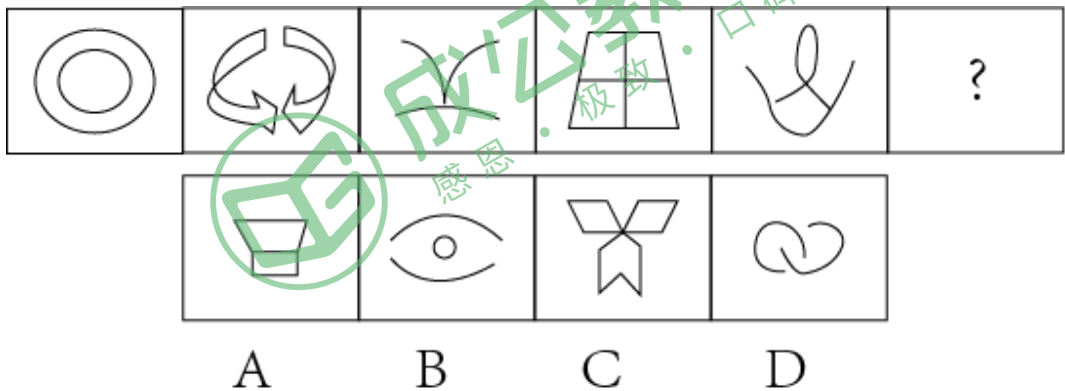


类比推理。先给出一对相关的词，要求你在备选答案中找出一对与之逻辑关系上最为贴近或相似的词。

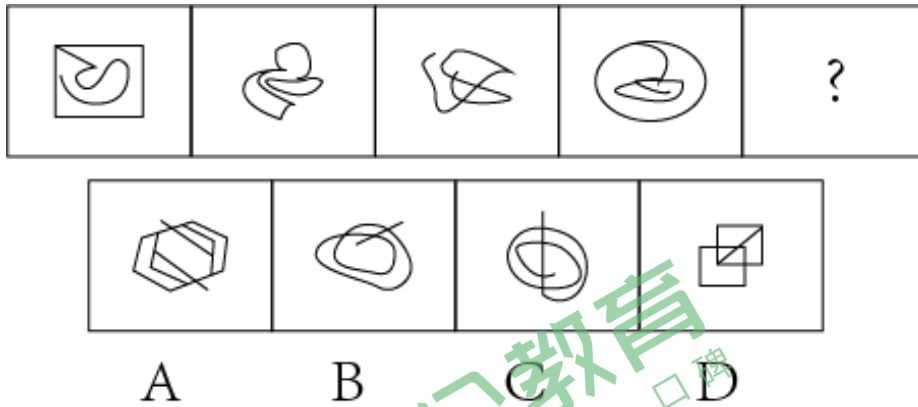
1. 唐诗：宋词
 - A. 黄桃：水果
 - B. 金钱：包裹
 - C. 徽墨：湖笔
 - D. 花草：鱼虫
2. 月刊：季刊
 - A. 白天：冬天
 - B. 高外：价值
 - C. 杭州：温州
 - D. 周报：年报
3. 入木三分：王羲之
 - A. 桃园结义：朱元璋
 - B. 凿壁偷光：孙康
 - C. 毛遂自荐：孟尝君
 - D. 投笔从戎：班超
4. 与日俱增：每况愈下
 - A. 孜孜不倦：前赴后继
 - B. 大公无私：光明磊落
 - C. 特立独行：亦步亦趋
 - D. 胸怀坦荡：优柔寡断
5. 《水浒传》：花和尚：鲁智深
 - A. 《射雕英雄传》：妙手书生：朱聪
 - B. 《后汉书》：飞将军：李广
 - C. 《满江红》：岳武穆：岳飞
 - D. 《水木清华图》：八大山人：朱耷

图形推理。请按每道题的答题要求作答。

6. 从所给的四个选项中，选择最适合的一个填入问号处，使之呈现一定的规律（ ）



7. 从所给的四个选项中，选择最恰当的一项填入问号处，使之呈现一定的规律（ ）



演绎推理。每道题给出一段陈述，这段陈述被假设是正确的，不容置疑的。要求你根据这段陈述，选择一个答案。注意，正确的答案应与所给的陈述相符合，不需要任何附加说明即可以从陈述中直接推出。

8. 杭州某茶叶经销商在向客人介绍一种茶叶时说：“这种茶叶产自龙井村，而著名的龙井茶正是产自龙井村，所以这就是龙井茶。”

下列选项中，与该经销商介绍茶叶时的逻辑最为相似的是：（ ）。

A. 奇瑞汽车是我国自主研发的，公路上超速行驶的那辆汽车不是奇瑞品牌，所以肯定不是我国自主研发的

B. 优秀的管理者需要具备果敢的决策力和强劲的学习力，马云二者兼备，所以他是优秀的管理者

C. 温州中学的学生都勤奋好学，张潇是温州中学的学生，所以张潇勤奋好学

D. 所有律师都必须有律师资格证，何以琛有律师资格证，所以何以琛是律师

9. 某教育专家认为：中小学生有时是在与同学或朋友谈论网络游戏中获得认同感与归属感的。在青少年时期，获得归属感和友谊是他们成长的重要任务。如果少年时期未能成功地建立亲密友谊，他们就会体验到痛苦的孤独感，自我价值感也会随之降低。该专家通过分析指出，网络游戏也有其积极作用，对于中小学生的健康成长是十分必要的。

下列哪项如果为真，最能对该专家的观点提出质疑？（ ）

A. 中小学生自控力不强，在很大程度上会沉迷网络游戏，对身心健康产生不利影响

B. 有的学生为了得到同伴认同而去玩网络游戏，甚至荒废了学业

C. 中小学生通过体育锻炼等健康的交往互动方式也能建立亲密的友谊

D. 网络游戏能使中小学生的思维能力、协调能力等得到多方面锻炼，从而释放压力

10. 研究发现，新孵化出的大蚁幼蛛会通过吸食其母亲从生殖沟分泌出的液滴生长发育，

并且在最初的 20 天之内完全依赖此液体存活。大约从 40 日龄起幼蛛完全自主捕食，而此时的幼蛛体长已经达到成年个体的八成。据此，研究人员提出，哺乳并非哺乳动物独有的行为，大蚁蛛也存在长期的“哺乳行为”。

下列哪项如果为真，最能支持上述研究人员的结论？（ ）

- A. 这种超长的亲代抚育行为模式，目前发现仅存于高等社会性的脊椎动物类群中
- B. 该液滴的蛋白质含量是牛奶的 4 倍左右，而脂肪和糖类的含量则低于牛奶
- C. 鸟类也提供类似“乳汁”的分泌物喂养后代，但在行为模式和持续时间上与真正的哺乳动物相差甚远
- D. 幼体从出生后完全依靠母体分泌体液存活，直到能完全独立捕食后停止，是哺乳行为的重要特征

11. 某文艺汇演有舞蹈、相声、歌曲、魔术和杂技五个备选节目，导演组要从中挑选部分参加正式演出。有网友对此次选拔的结果预测如下：

网友甲：“如果杂技没有通过，那么舞蹈也不会通过。”

网友乙：“相声、魔术和杂技要么都通过，要么都没通过。”

网友丙：“如果歌曲能通过，那么相声也能通过。”

评定的节目单公布后，发现三位网友的预测都是错的，则最终有几个节目通过了选拔？

（ ）

- A. 1 B. 2
- C. 3 D. 4

12. 美国国家卫生研究院正在进行的一项研究显示，每天使用智能型产品 WA 玩电子游戏超过 7 小时的 9 至 10 岁儿童，大脑皮层有过早变薄的迹象。大脑皮层是人们进行意识活动的物质基础。大脑皮层不同的区域与不同的认知功能相关联。因此研究人员得出结论，长期看电子屏幕会影响儿童的认知能力。

下列哪项如果为真，最能支持上述研究人员的结论？（ ）

- A. 每天盯着屏幕超过 2 小时的儿童，语言和推理考试能力表现较差
- B. 大脑皮层的厚度会因大脑的发育、老化以及病理改变而在相应区域呈现出显著的变化
- C. 儿童花费在电子屏幕上的时间会占用其他对认知力发展有重大意义的活动时间，如亲子交流、户外运动等
- D. 个体面对电子屏幕做的事情是不同的，如查资料、玩游戏、看视频，很难界定电子

屏幕对大脑结构的影响如何

定义判断。每道题先给出定义，然后列出四种情况，要求你严格依据定义，从中选出一个最符合或最不符合该定义的答案。注意：假设这个定义是正确的，不容置疑的。

13. 穿针效应：在给小小的缝衣针穿线的时候，你越是全神贯注地努力，线越不容易穿入。在生活中，做一件事情的目的性越强，越不容易成功。

根据上述定义，下列没有体现穿针效应的是：（ ）。

- A. 博弈者用瓦盆做赌注，他的棋艺发挥得淋漓尽致，当用黄金做赌注时，则大失水准
- B. 考生太想考好，结果脑子一片空白，走出考场时又感觉题都会做，没有太大的难度
- C. 某男士面对不感兴趣的人，通常会侃侃而谈，面对真正喜欢的人，却怎么都不自在
- D. 主妇把大部分精力放在如何省钱上，却丧失了更多的时间去研究如何能赚更多的钱

14. 在一定温度下，某物质在 100g 溶剂中达到饱和状态时所溶解的溶质的质量，叫做这种物质在这种溶剂中的溶解度。

下列关于溶解度的描述正确的是：（ ）。

- A. 在 20°C 的时候，100g 水里要溶解 16g 食盐和溶解 90.3g 蔗糖才能饱和，食盐和蔗糖在 20°C 的溶解度就分别是 16g 和 90.3g
- B. 在 20°C 的时候，120g 水里能溶解 36g 硝酸钾，所以硝酸钾在 20°C 的溶解度是 30g
- C. 在 10°C 的时候，100g 水里能溶解 64.7g 氯化钙，继续添加却不能溶解，所以氯化钙在 10°C 的溶解度是 64.7g
- D. 在 10°C 的时候，甲醇和乙醇可以任意比例与 100g 水互溶，所以甲醇和乙醇在 10°C 没有溶解度

15. 暗示疗法是一种心理治疗法，指通过非批评性的暗示使患者产生认知、情感和行为改变的治疗技术。它包括直接暗示和间接暗示等。前者是治疗者给予患者以诱导和暗示，使患者接受暗示从而改变原有的病态感觉和不良态度。后者是借助于某种刺激或仪器检查，同时患者进行语言强化，最终达到治疗目的。

根据上述定义，下列治疗方法中属于间接暗示的是：（ ）。

- A. 血液检查单下来后，客观描述病情：“感染已经扩散，需要马上住院治疗”
- B. 手术前，主动向患者做好安抚工作：“医生的技术可好了，手术肯定能成功”
- C. 对患者静脉注射适量葡萄糖，推注过程辅以慰藉：“这个是进口药，效果特别好”
- D. 面对即将治愈的患者，耐心嘱咐：“只要保持良好生活习惯，复发的概率就很小”

16. 汉密尔顿法则认为每一个物种，个体都将与其最近血缘关系的个体间的合作行为放

在首位，这样做可以促进自身基因的传播。

根据上述定义，下列最不可能体现汉密尔顿法则的是：（ ）。

- A. 当翡翠凤凰鱼的伴侣是同胞姐妹时，夫妻间的争斗要少得多
- B. 在白蚁群体中，工蚁负责觅食、防御、哺幼、护蚁王等工作
- C. 一般情况下，黄鼠会把那些与自己一块长大的个体看做亲属
- D. 大山雀在遇到天敌入侵时，通常会向鸟群发出特定的警报声

17. 鲁迅先生曾在《无声的中国》一文中写道：“中国人的性情总是喜欢调和、折中的，譬如你说，这屋子太暗，说在这里开一个天窗，大家一定是不允许的。但如果你主张拆掉屋顶，他们就会来调和，愿意开天窗了。”这种先提出很大的要求，接着提出较小、较少的要求，在心理学上被称为拆屋效应。

根据上述定义，下列没有体现拆屋效应的一项是：（ ）。

- A. 当商场准备举行打折促销活动时，会事先提高商品的近期价格
- B. 孩子犯错后选择离家出走，父母找到后反倒不追究之前的错误
- C. 宣传人员随机向路人发放传单，然后请求接收者进店实地参观
- D. 顾客要求以半价购买，被商家拒绝后佯装离开，商家为挽留生意同意以七折价卖出

18. 水体污染是指排入水体的污染物破坏了水中固有的生态系统，破坏了水体的功能及其在人类生活和生产中的作用，降低了水体的使用价值和功能的现现象。水体污染的最主要的原因是工业废水的大量排放。

根据以上定义，下列不属于水体污染的是（ ）

- A. 适量进行鱼类养殖
- B. 随大气扩散的有毒物质通过重力沉降或降水过程而进入水体
- C. 施用化肥、农药及城市地面的污染物被水冲刷而进入水体
- D. 向水体排放未经妥善处理的城市污水和工业废水

19. 垂直绿化指的是利用攀援植物向空中生长进行纵向绿化的一种方式，以期达到在有限面积内最大限度地利用空气和阳光来提高绿化的效率。

根据上述定义，下列涉及垂直绿化的是（ ）

- A. 爬山虎爬满了墙头和屋顶
- B. 松树林从山脚一直延伸到山顶
- C. 利用巴根草匍匐攀援的特性，人们在沙漠中逐渐开拓出一片绿洲
- D. 在丘陵地区，人们常使用飞机从空中播种的方式对山地进行绿化

20. 迁徙是指自然界中动物由于繁殖、觅食、气候变化等原因而进行一定距离的迁移。可分为周期性迁移和非周期性迁移，周期性迁移有一定的规律和路线。根据上述定义，下列不属于迁徙的是（ ）

- A. 圈养的猪吃完这边食槽的食物后就去另一个食槽继续吃
- B. 候鸟因季节和繁殖每年春季返回繁殖地，秋季迁往南方越冬地
- C. 淡水区的鳊鱼在生殖期游向深海产卵
- D. 北方驯鹿冬季南迁至针叶林带，春季则返回食物丰富的北方苔原带

类比推理：每道题先给出一组相关的词，要求你在备选答案中找出一组与之在逻辑关系上最为贴近、相似或匹配的词。

请开始答题：

21. 谦虚：谦逊

- A. 任性：愿意
- B. 果断：毅然
- C. 敬爱：轻视
- D. 果实累累：硕果累累

22. 责任：推诿：承诺

- A. 牢笼：编织：冲破
- B. 环境：污染：保护
- C. 言语：障碍：沟通
- D. 任务：明确：执行

23. 端午：端阳

- A. 人才：精英
- B. 汴梁：开封
- C. 贸易：交易
- D. 击打：拍打

24. 炮弹：炸弹：地雷

- A. 武汉：汉口：武昌
- B. 整数：分数：有理数
- C. 油料：棉花：甘蔗
- D. 东北：吉林：辽宁

25. 喝酒：脸红

- A. 打球：喝水
- B. 跑步：出汗
- C. 喝水：解渴
- D. 茶具：茶几

26. 纸张：印刷：书籍

- A. 皮革：加工：鞋子
- B. 种子：播种：粮食
- C. 面粉：油炸：油条
- D. 蓝图：施工：建筑

27. 胆大包天 对于（ ） 相当于 贻笑大方 对于（ ）

- A. 肆无忌惮 布鼓雷门
- B. 胆小如鼠 布鼓雷门

C. 肆无忌惮 落落大方 D. 胆小如鼠 遗洒大方

28. () 对于 乱世 相当于 伯乐 对于 ()

- A. 盛世 伯牙 B. 君王 知音
C. 军队 人才 D. 英雄 骏马

逻辑判断。每道题给出一段陈述，这段陈述被假设是正确的，不容置疑的，要求你根据这段陈述，选择一个答案。注意：正确的答案应与所给的陈述项符合，不需要任何附加说明即可以从陈述中直接推出。

29. 有学者认为：国家应当制定政策，用立法的方式规定成年子女陪伴年老父母的时间下限，这样可以减轻老年人的孤独感和寂寞感。因此，这样的法律也就能够使家庭幸福。

下列哪项为真，最能够加强上述的推论 ()。

- A. 子女有义务供养年老父母的物质生活，这是社会对每一个公民的起码要求
B. 大部分的成年子女平常都能够与父母经常地在一起生活
C. 这项政策的目标是减轻老年人的孤独感和寂寞感
D. 精神赡养缺失是家庭幸福很大的障碍

30. 如果你手上这块玉是独山玉，那么他就是产自河南南阳。

上述论断的前提是 ()。

- A. 河南南阳也生产蓝田玉
B. 有的独山玉是从国外进口的
C. 有些独山玉产自河南南阳
D. 所有独山玉都是产自河南南阳

31. 已在 4000 年前灭绝的猛犸象死于突如其来的冰期，死后尸体被冻结，有完好的化石保存，因现存的非洲、亚洲象牙被禁止交易，象牙制品价格逐年下降，人们将目光投向猛犸象牙的挖掘开采和加工，猛犸象牙的价格一路飙升，有人推测猛犸象牙制品交易将在近十几年走向巅峰。

以下哪项如果为真，能够质疑该推测 ()。

- A. 猛犸象牙属于古生物化石，法律上禁止交易
B. 猛犸象的挖掘开采不受濒危物种保护条例的限制
C. 西伯利亚冰层下的猛犸象化石已经为数不多
D. 物以稀为贵，猛犸象牙的收藏价值水涨船高

32. 小赵参与了班长竞选，在自我陈述优势时谈到，有大量同学支持，为证明此言不虛，

当场表决发现，有 40 多名同学支持小赵。

下列选项如果为真，最能削弱上述结论的是（ ）。

- A. 这个班有 200 人
- B. 这 40 多名同学也支持别人
- C. 这 40 多名同学接受了小赵的贿赂
- D. 小赵学习成绩不好

33. 小李是今年省 55KG 女子跆拳道锦标赛的冠军，某跆拳道馆以小李在馆内培训为由，以其能年年训练出锦标赛冠军做广告。

与上述错误的逻辑推理类似的是（ ）。

A. 今年全国秋粮收获过两成，十一前后进入高峰期，粮食产量稳定在 12000 亿斤以上

B. 随着我国综合国力的提升，在国际上也与多个国家建立外交关系，我国在国际上的影响力逐渐加强

C. 小红去某庄园采摘草莓，发现她采摘的草莓都很甜，她便四处对朋友说该庄园的草莓都很甜

D. 小林因参加某培训机构的雅思培训班，成功取得雅思 8 分的好成绩，申请到了剑桥大学；该培训机构将小林的经历张贴在广告栏上

34. 罗斯镇修缮其所有的道路需花费 100 万美元，但是在这些道路修缮完成之后的 1 年内，罗斯镇可以因此而避免承担 300 万美元的损失，因为这个数目是现在罗斯镇每年对没有修缮的道路造成的汽车损害的赔偿额。

下列哪项如果正确，对以上结论提供了最强有力的支持？（ ）

- A. 与罗斯镇毗邻的地区同样对他们的道路所造成的汽车损害给予赔偿
- B. 罗斯镇所有的道路都得到修缮后，几年内不会出现道路损害汽车的情况
- C. 如果罗斯镇要在 1 年内花费 100 万美元用于道路修缮，它就需要提高附加税
- D. 恶劣的气候给罗斯镇的道路带来的损害程度隔年之间相差很大

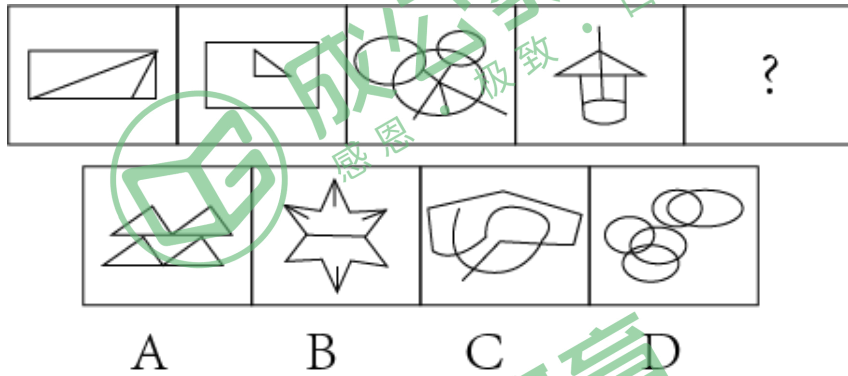
图形推理。请按每道题的答题要求作答。

请开始答题：

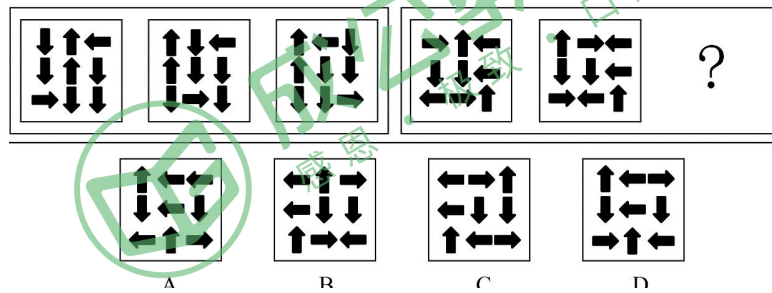
35. 从所给的四个选项，选择最合适的一个填在问号处，使之呈现一定的规律（ ）。



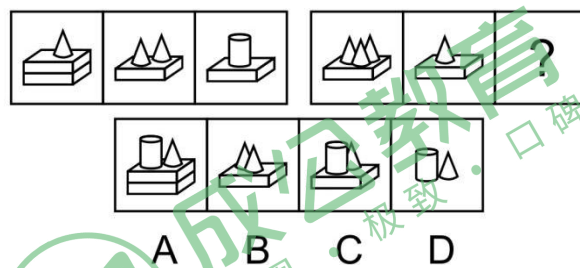
36. 从所给的四个选项, 选择最合适的一个填在问号处, 使之呈现一定的规律 ()。



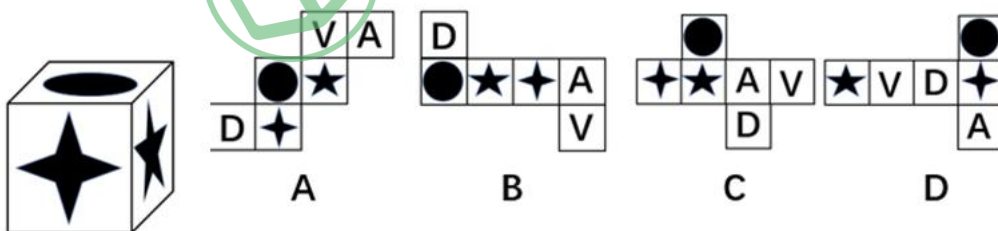
37. 从所给的四个选项, 选择最合适的一个填在问号处, 使之呈现一定的规律 ()。



38. 从所给的四个选项, 选择最合适的一个填在问号处, 使之呈现一定的规律 ()。



39. 下列选项中, 不能由左边的立方体展开而成的是 ()。



类比推理：每道题先给出一组相关的词，要求你在备选答案中找出一组与之在逻辑关系上最为贴近、相似或匹配的词。

请开始答题：

40. 叹为观止：拍案叫绝

- A. 茅塞顿开：豁然贯通
B. 春风化雨：口诛笔伐
C. 老蚌生珠：生不逢时
D. 眼冒金星：色厉内荏

41. 信件：邮箱：邮递员

- A. 学校：教室：教师
B. 垃圾：垃圾桶：清洁工
C. 顾客：服装店：店长
D. 铅笔：卷笔刀：学生

42. 阳光：性格

- A. 花朵：春天
B. 纯洁：水晶
C. 流水：时间
D. 水滴：渺小

43. 耳环：手镯

- A. 水：溶液
B. 医院：学校
C. 开始：停止
D. 教师：职业

44. 土豆：马铃薯：洋芋

- A. 乒乓球：桌球：国球
B. 正月：寅月：献岁
C. 巴士：公交：汽车
D. 质押：抵押：扣押

45. 电：电动车：行驶

- A. 雨：雨衣：遮挡
B. 花：花篮：装扮
C. 网：蜘蛛：捕食
D. 油：游轮：旅游

46. 窃取 对于 () 相当于 () 对于 警惕

- A. 馈赠 警告
B. 坐牢 放松
C. 情报 提高
D. 泄露 警察

47. 左右 对于 () 相当于 () 对于 早晚

- A. 高低 内外
B. 多少 迟早
C. 长短 大小
D. 上下 快慢

逻辑判断。每道题给出一段陈述，这段陈述被假设是正确的，不容置疑的，要求你根据这段陈述，选择一个答案。注意：正确的答案应与所给的陈述项符合，不需要任何附加说明即可以从陈述中直接推出。

请开始答题：

48. 当前，我国人均耕地面积在不断缩小，于是有人认为将来会因为耕地面积锐减而引发饥饿危机，但也有人认为，饥饿危机产生的原因总是源于分配而不是生产。

下列论据中，最能支持后者观点的是（ ）。

- A. 将来不会有粮食分配不公
- B. 将来不会有粮食短缺
- C. 将来粮食的产量不会低于当前
- D. 将来不会有饥饿危机

49. 平装书比精装书更容易破损，但是精装书比平装书贵。如果在预算固定的情况下，公共图书馆把所有的资金用于购买平装书，就会增加图书馆的新书藏量，读者就会得到更好的服务。

如果下列选项为真，最能削弱上述结论的是（ ）。

- A. 如果公共图书馆的总预算减少了，那么用来买新书的预算也会减少
- B. 许多平装书从来不出精装书
- C. 如果公共图书馆不购买精装书，那么预算会被进一步削减
- D. 只有依靠图书馆才能读到的各种大型工具书只出精装本

50. 所有参加单位组织的篮球赛的员工都是身体素质强的篮球爱好者，所有身体素质强的篮球爱好者都是极少生病的，但有些身体不适的选手参加了此次篮球赛。

以下哪项由此可以推出（ ）。

- A. 有些身体不适的员工极少生病的
- B. 参加此次篮球赛的员工都是极少生病的
- C. 极少生病的员工都参加了此次篮球赛
- D. 有些身体素质强的员工感到身体不适

51. 一位科学家发明了一项新产品，他利用手上的一些储蓄，又贷了一些款，自己开办了一家企业。半年后，企业效益下滑，于是他高薪聘请了一名总经理，自己任董事长兼搞开发，终于使企业迅速崛起为一家大型公司。

由此可见（ ）。

- A. 人才具有不同的才能，要使其各尽所能
- B. 要实行经营权与所有权分离的制度
- C. 科学家一般都不是企业家，都不善经营
- D. 应当大力发展教育事业

52. 老师不可能无时无刻照顾好每一个学生，即使他们能够这样做，他们也并不是能

够提前预判某个学生会摔跤、会尿裤子。这就是他们不能因为学生没有被照顾的不出任何问题而受到家长的指责和谩骂。

下列哪个一般原则，如果成立，最有助于证明上面论证中的结论？（ ）

- A. 老师没有责任和义务教会每个孩子如何避免摔跤和尿裤子
- B. 在道德体系中，家长和老师应该受到同样的对待
- C. 老师只应该对那些他们能够加以控制的行为承担责任
- D. 在教育体系中，老师，家长和学生都有各自的责任

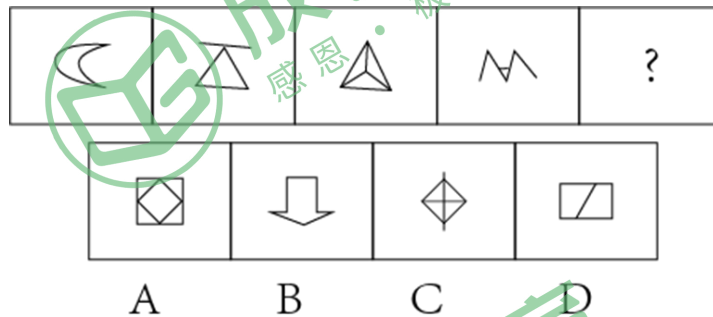
图形推理。请按每道题的答题要求作答。

请开始答题：

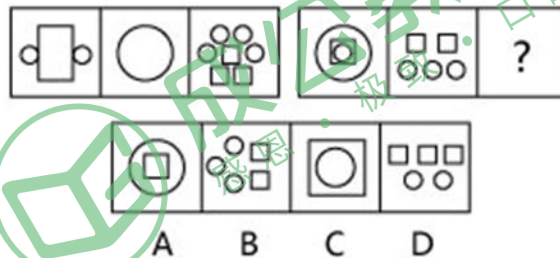
53. 从所给的四个选项，选择最合适的一个填在问号处，使之呈现一定的规律（ ）。



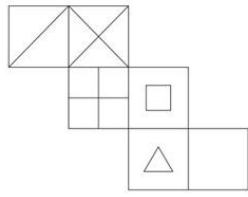
54. 从所给的四个选项，选择最合适的一个填在问号处，使之呈现一定的规律（ ）。



55. 从所给的四个选项，选择最合适的一个填在问号处，使之呈现一定的规律（ ）。



56. 左边给定的是纸盒的外表面，下列能由它折叠而成的是（ ）。



A



B



C



D

类比推理。先给出一对相关的词，要求你在备选答案中找出一对与之逻辑关系上最为贴近或相似的词。

57. () 对于 虚心使人进步，骄傲使人落后 相当于 有志者事竟成 对于 ()

- A. 皇天不负有心人 失败是成功之母
- B. 吃一堑长一智 打破沙锅问剑底
- C. 先天下之忧而忧，后天下之乐而乐 世界上怕就怕“认真”俩字
- D. 满招损，谦受益 天下无难事，只怕有心人

58. () 对于 犹豫 相当于 笑里藏刀 对于 ()

- A. 瞻前顾后 阴险
- B. 居心叵测 情绪
- C. 举棋不定 恐惧
- D. 侧目而视 恶毒

59. 眉清目秀：明眸皓齿

- A. 江河日下：如日方升
- B. 对牛弹琴：有的放矢
- C. 螳臂当车：高屋建瓴
- D. 身先士卒：一马当先

60. 眉清目秀：明眸皓齿

- A. 江河日下：如日方升
- B. 对牛弹琴：有的放矢
- C. 螳臂当车：高屋建瓴
- D. 身先士卒：一马当先

61. 一本正经：不苟言笑

- A. 鳞次栉比：参差错落
- B. 三心二意：专心致志
- C. 瞻前顾后：踌躇不前
- D. 白驹过隙：白马非马

62. 启程：出发

- A. 聒噪：小憩
- B. 宴请：饭局
- C. 打扰：道歉
- D. 珍藏：收藏

63. 希望：渴望

- A. 夸耀：炫耀
- B. 启发：启迪
- C. 鼓动：煽动
- D. 思考：思索

64. 殚精竭虑：鞠躬尽瘁

- A. 绞尽脑汁：有心无力
- B. 卧薪尝胆：含辛茹苦
- C. 博闻强识：孤陋寡闻
- D. 见微知著：一叶知秋

65. 家徒四壁：瓮牖绳枢

- A. 临深履薄：胆大妄为
- B. 绝处逢生：化险为夷
- C. 缄口结舌：噤若寒蝉
- D. 因小失大：自始至终

66. 言不由衷：心口不一

- A. 妄自菲薄：自惭形秽
- B. 不以为然：不以为意
- C. 义不容辞：得过且过
- D. 粉墨登场：见风使舵

67. 暖和：炎热

- A. 僻静：偏僻
- B. 规矩：规则
- C. 简单：平凡
- D. 微笑：大笑

68. 开心：高兴

- A. 纯洁：高尚
- B. 悲伤：愉快
- C. 温柔：软弱
- D. 美丽：漂亮

69. 馥郁芬芳：香气怡人

- A. 飞扬跋扈：屡教不改
- B. 跋山涉水：不畏艰险
- C. 纸上谈兵：夸夸其谈
- D. 兢兢业业：勤勤恳恳

70. 整洁：整齐：规整

- A. 美丽：漂亮：美观
- B. 讨厌：厌烦：反感
- C. 当下：立即：然后
- D. 追逐：追忆：追思

71. 记挂：挂记

- A. 喜欢：欢喜
- B. 责问：问责
- C. 巴结：结巴
- D. 外校：校外

72. 南征北战：东讨西伐

- A. 万紫千红：姹紫嫣红
- B. 古往今来：天南地北
- C. 朝三暮四：喜新厌旧
- D. 左顾右盼：东张西望

73. 好感：喜欢：热爱

- A. 伤心：悲伤：悲哀
- B. 不安：紧张：焦躁
- C. 不悦：反感：厌恶
- D. 高兴：愉快：喜悦

74. 郑重：谨慎：慎重

- A. 自豪：信心：满意 B. 精美：雅致：精致
- C. 认真：细致：刻苦 D. 懒惰：懈怠：消极

75. 把戏：伎俩：手段

- A. 边疆：边境：边界 B. 爱护：爱戴：爱惜
- C. 牟取：骗取：谋取 D. 嘲笑：讥笑：笑容

76. 不落窠臼：别具匠心

- A. 南辕北辙：背道而驰 B. 明察秋毫：无微不至
- C. 风驰电掣：慢条斯理 D. 俯首帖耳：貌合神离

77. 语重心长：苦口婆心


- A. 心有余悸：谈虎色变 B. 笑里藏刀：心口如一
- C. 死里求生：坐以待毙 D. 黯然无光：金碧辉煌

78. 得陇望蜀：狼子野心

- A. 沐猴而冠：狐假虎威 B. 指桑骂槐：趾高气扬
- C. 坐井观天：鼠目寸光 D. 投桃报李：指雁为羹

图形推理。请按每道题的答题要求作答。

79. 从所给的四个选项中，选择最合适的一个填入问号处，使之呈现一定的规律（ ）

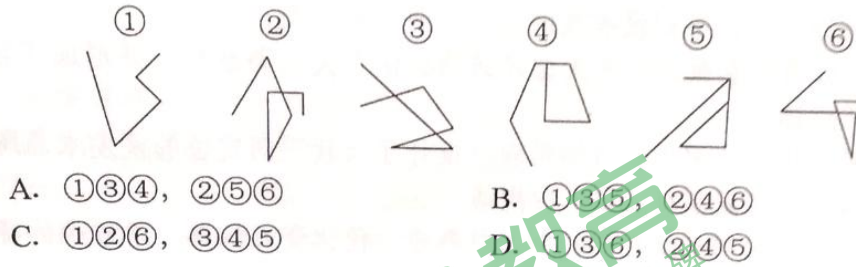


- A.
- C.

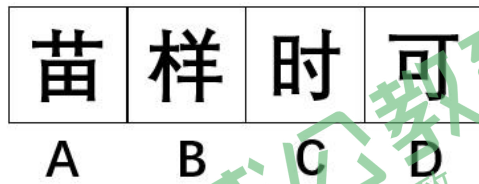
- B.
- D.

80. 把下面的六个图形分为两类，使每一类图形都有各自的共同特征或规律，分类正确

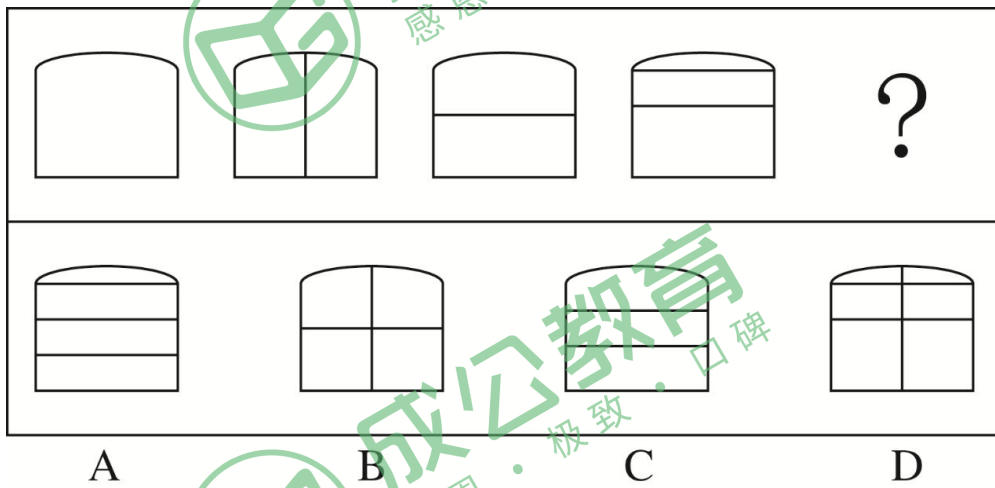
的一项是：()



81. 根据所给图形的既有规律，选出一个最合理的答案 ()



82. 下列选项中，符合所给图形的变化规律的是 ()



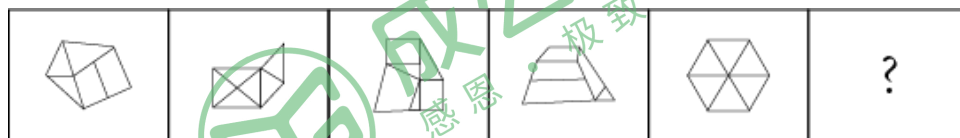
83. 从所给的四个选项中，选择最合适的一个填入问号处，使之呈现一定规律性 ()

87	10	43	32	83	?
----	----	----	----	----	---

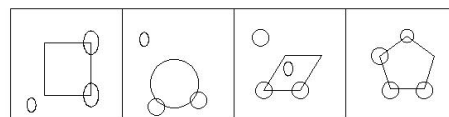
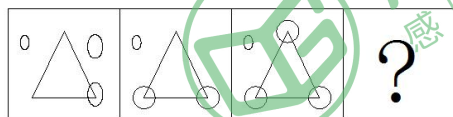
09	93	36	74
----	----	----	----

A B C D

84. 从所给的选项中, 选择最合适的一个填入问号处, 使之呈现一定的规律性 ()



85. 从所给的选项中, 选择最合适的一个填入问号处, 使之呈现一定的规律性 ()



A B C D

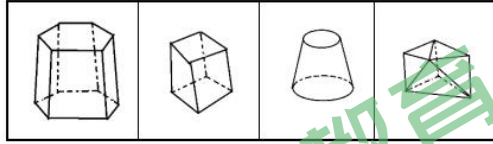
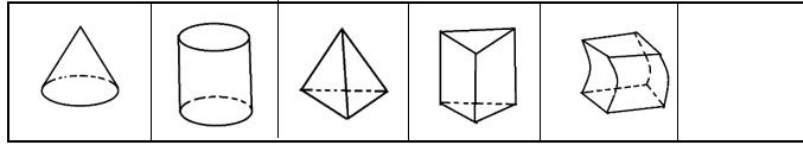
86. 从所给四个选项中, 选择最合适的一个填入问号处, 使之符合已呈现的规律 ()

CAH	JRT	NXP
XMP	EDW	RLF
PZX	IVD	?

NKR	EDX	ACJ	XSH
A	B	C	D

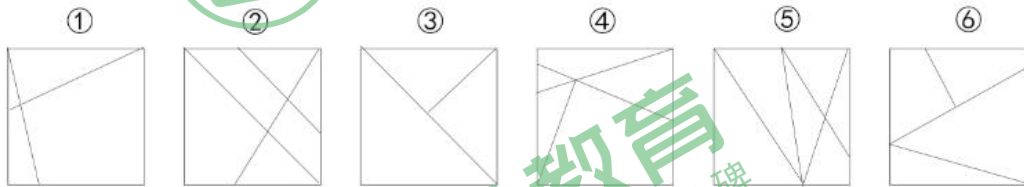
87. 从所给的四个选项中, 选择最合适的一个填入问号处, 使之呈现一定的规律性:

()



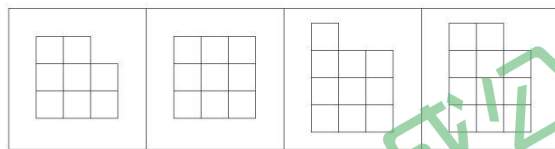
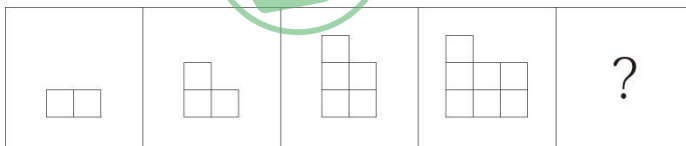
A B C D

88. 把下面的六个图形分为两类，使每一类都有各自的共同特征或规律，分类正确的一项是：



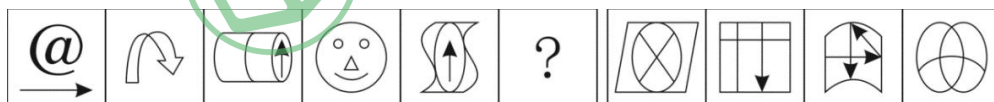
- A. ①②③, ④⑤⑥ B. ①②⑤, ③④⑥
 C. ①②④, ③⑤⑥ D. ①③⑥, ②④⑤

89. 填入问号处最恰当的是：



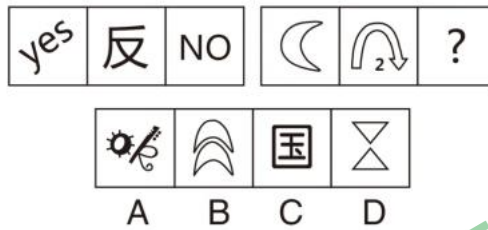
A B C D

90. 从所给的四个选项中，选择最合适的一个填入问号处，使之呈现一定的规律性：



A B C D

91. 从所给的四个选项中，选择最合适的一个填入问号处，使之呈现一定的规律性：



定义判断。每道题先给出定义，然后列出四种情况，要求你严格依据定义，从中选出一个最符合或最不符合该定义的答案。注意：假设这个定义是正确的，不容置疑的。

92. 行贿罪是指为谋不正当利益，给国家工作人员以财务（含在经济往来中，违反国家规定，给予国家工作人员以财务，数额较大，或者违反国家规定，给予国家工作人员以各种名义的回扣费、手续费）的行为。

根据上述定义，下列属于行贿罪的是（ ）

- A. 新入职的宁某为和同事搞好关系经常买些小礼物送给大家
- B. 余某在工作中拖泥带水而遭受同事排挤
- C. 在比赛前，甲足球队领导请主裁判吃饭并请求其在比赛中多“照顾”甲足球队员
- D. 在市教育局工作的蔡某为了获得晋升机会给科长送了1万元的红包

93. 产权是指主体对物的排他性权利，它的本质是人们在社会生产中发生的对劳动成果的权利。

根据上述定义，下列不属于产权的是（ ）

- A. 所有权、占有权 B. 收益权、转让权
- C. 劳动选择权、劳动交换转让权 D. 支配权、使用权

94. 三代人权说是国际上广为流传的一种人权分类方式，第一代人权是指公民权利和政治权利。第二代人权是指经济，社会和文化权利，第三代人权是指在20世纪60年代，被称作集体人权。

下列权利中属于第二代人权的是（ ）

- A. 民族自治权、发展权、环境权
- B. 生命权、人身自由与安全权
- C. 休息权、健康权、社会保障权
- D. 选举权和被选举权、言论、出版、集会等权利

95. 行政指令是指行政主体依靠行政组织的权威，运用行政手段，包括行政命令、指示、规定、条例及规章制度等措施，按照行政足迹的系统和层次进行行政管理活动的方法。根据

上述定义，下列描述不属于行政指令的是（ ）

- A. 体育总局局长签发嘉奖令，表彰在全运会上取得优异成绩的运动员和教练员
- B. 消费者协会同中国家用协会正式发布《太阳能热水器选购指南》
- C. 市教育局紧急电话通知，要求全市中小学、幼儿园加强校园安全管理
- D. 市消防大队对未经消防设计备案擅自施工的违法工程下发《责令改正通知书》

96. 拟制血亲关系是指当事人之间本无血缘关系，经过法定程序确认其为亲戚关系，在我国，拟制血亲关系仅指《婚姻法》、《收养法》明确规定的情形。根据上述定义，下列属于拟制血亲关系的一项是（ ）。

- A. 在同一户口簿上的养父与养子
- B. 孤儿院的保育员与孤儿
- C. 义父与义子
- D. 丈夫的私生子与妻子

97. 社会互动是指人与人、人与社会、人与群体、群体与群体之间通过信息传播而发生的相互影响、相互作用、相互依赖的社会交往活动的过程。

下列不属于社会互动的现象是（ ）

- A. 在2008年的元旦晚会上，北大校长许智宏为学生们演唱了一首《隐形的翅膀》。歌声响起，北大学子们掌声相印，歌声相和
- B. 榜样的力量是无穷的
- C. 张三和他的邻居经常互相赠送自己做的小点心
- D. 在大会上，中外学者互相交流学术观点

98. 就业平等权：指公民不论其民族、种族、性别、宗教信仰、家庭背景等的异同，均享有平等获得就业机会的权利。

根据上述定义，下列没有侵犯求职者的就业平等权的是（ ）

- A. 女大学生小雯，本科学历，在几次应聘中，都因为是女性而落聘
- B. 某公司招聘时，明确规定本公司员工的亲属比其他应聘者优先录用
- C. 小刘的父亲是某单位领导，在该单位公开招聘中，小刘未和其他应聘者一样参加考试，就直接被录用了
- D. 某食品加工厂在招聘员工过程中，以食品安全为由，拒绝录用一名传染病患者

99. 众包，是指公司或者机构把原来由员工执行的工作任务，以自愿的形式外包给非特定大众网络的一种合作模式。根据上述定义，下列属于众包的是（ ）。

- A. 某公司面向网络平台上的广大汽车爱好者，募集合作者，专门为公司研发的一款新型概念车进行功能定义和命名

B. 高校教师小王为了参加一场业余模特大赛，通过微信联系了高中同学小丽，请她帮忙设计了一套漂亮的参赛服装

C. 以系统研发为核心竞争力的软件公司 M，雇用了另一家网站开发实力较强的 H 公司，为自己公司进行网站架构

D. 美国芝加哥的某 T 恤公司拥有一个庞大的 T 恤爱好者网络社区，每天都会收到不同爱好者发来的大量交流信息

100. 价格垄断行为是指经营者通过相互串通或者滥用市场支配地位，操纵市场调节价，扰乱正常的生产经营秩序，损害其他经营者或者消费者合法权益，或者危害社会公共利益的行为。

根据上述定义，下列不属于价格垄断行为的是（ ）

A. 几家大型电视机生产企业通过协议联手操纵价格

B. 某商场为了吸引顾客将部分商品低于成本价销售

C. 拥有专利权的工厂凭借市场支配地位，在经销商提货时强制限定转售价格

D. 一家占市场份额 70% 的大企业以回扣、赠送等方式变相降价，致使商品市场价低于成本价

101. 职业枯竭是指人们在自己长期从事的工作重压之下，产生身心能量被工作耗尽的感觉。根据上述定义，下列属于职业枯竭状态的是（ ）。

A. 老周不能胜任自己现有的工作，每天都会忙得焦头烂额

B. 刚参加工作的小李觉得这份工作太累，产生了跳槽的念头

C. 刘经理每天工作繁忙，缺乏充足的休息，情绪也越来越糟糕

D. 在从事过许多不同的职业之后，老王觉得所有工作都索然无味

102. 选择性注意是指在外界诸多刺激中，人们仅仅注意到某些刺激或刺激的某些方面，而忽略了其他刺激。根据上述定义，下列属于选择性注意的一项是（ ）。

A. 志愿者小张在奥运会期间，每天忙于奥运赛场的服务，无暇观看奥运比赛

B. 奥运结束后，一些学生仍对奥运精彩纷呈的赛事感到意犹未尽，无法投入到新学期的学习生活中

C. 意大利小伙子马克观看完北京奥运会开幕式后，对中国文化产生了浓厚兴趣，于是留在北京学习汉语

D. 北京奥运会期间，原本闹离婚的夫妻俩，由于一起收看奥运节目，交流增多，关系缓和，不再闹离婚了

103. 强迫症：以强迫观念和强迫动作为主要表现的一种神经症。以有意识的自我强迫与有意识的自我反强迫同时存在为特征，患者明知强迫症状的持续存在毫无意义且不合理，却不能克制地反复出现。根据上述定义，下列属于强迫症的是（ ）。

A. 模特小张最近为了保持苗条身材，强迫自己每次参加聚会都少吃东西，她感觉很痛苦

B. 过春节了，高三学生小陈一边很想跟同学出去玩，一边为了考上好大学不得不强迫自己在家认真看书

C. 林女士每次走出小区门口时，都会怀疑自家的煤气没有关掉或者大门没锁，于是再折返检查

D. 内向的小李很想对喜欢的女孩表白，但又很害怕被拒绝，整个晚上反复思考不能入眠

104. 娱乐体育是指人们在余暇时间进行的一种娱乐性极强的身体活动，它既是一种娱乐手段，又是一种身体锻炼的手段，根据上述定义，下列不属于娱乐体育的一项是（ ）。

A. 几年来，某地每年举办国际风筝节，每次都举行放风筝比赛

B. 为了吸引更多的游客，某新建公园举办了一次大型钓鱼比赛

C. 北京奥运会前夕，不少单位组织员工进行拔河比赛

D. 为了促进中国篮球事业发展，中国篮协每年都举办 CBA 比赛

105. 网络舆情：是指在互联网上流行的对社会问题不同看法的网络舆论，是社会舆论的一种表现形式，是通过互联网传播的公众对现实生活中某些热点、焦点问题所持的有较强影响力、倾向性的言论和观点。

根据上述定义，下列属于网络舆情的是（ ）。

A. 2018 年的“双十一”再次刷新了公众对网购的认识

B. “上海一小学生自带饭桌地铁里写作业”的视频在网上传开，引发网上关于中小学生学习减压大论战

C. 某抖友为目睹关注量爆棚的某网红真容，专程赶往该网红所在的城市

D. 某市发布“海河英才”行动计划，大幅降低了人才落户门槛，掀起新一轮的引才育才、留才用才的热潮，加之媒体对此进行相关报道，吸引了网民的广泛关注

106. 体验营销：是指通过看、听、用、参与等手段，充分刺激和调动消费者的感官、情感、思考、行动、关联等感性因素和理性因素的一种思考方式的营销方法。其认为消费者消费时是理性与感性兼具的，消费者在消费前、消费中和消费后的体验才是购买行为与品牌

经营的关键。

下列不属于体验营销的是（ ）。

- A. 某公司为了推销自己的新产品，在网上选取部分潜在客户到工厂参观产品生产过程
- B. 某4S店推出试驾服务，顾客可将新车使用一段时间后，决定是否购买
- C. 某出租车公司为了提高自己的业务收入，向社会推出预约接客点到点的产品
- D. 某开发商邀请潜在客户参与原材料的招投标，让大家一起来共同见证优质房屋的建造

107. 沟通按照沟通方式分，包括语言沟通和非语言沟通，语言沟通包括口头语言和书面语言，非语言沟通包括神态、声音语气（比如音调等）、肢体动作（比如手势、舞蹈、武术、体育运动等）。最有效的沟通是语言沟通和非语言沟通的结合。

根据上述定义，下列不属于运用了非语言沟通的是（ ）

- A. 在领导讲话的时候，新入职的校长凝神聚力，紧紧盯着领导的眼睛
- B. 在雅思测试时，李想忘记了一个无法用其他词汇替代的关键词汇，但却用一个极其恰当的手势表达了，最终顺利通过了测试
- C. 面对10多年未见的故人，两位老人热泪盈眶，泣不成声，紧紧地拥抱着在一起
- D. 老伴失聪了，什么也听不到，老胡作画一幅，用画中内容以表不离不弃之意

108. 反向激励法：又称逆向激励法，是指人们通过心理施加反向的负刺激，来激发人们的自尊心和荣誉感，驱使用自己的富有积极性和创造性的行动来否定外来的负面信息，从而达到激励的目的的一种方法。

根据上述定义，下列属于反向激励发的是（ ）

- A. 李老师在课堂中，经常表扬踊跃举手回答问题的同学
- B. 目前很多跑步APP每天会根据跑步的步数赠与小礼物乃至现金等
- C. 李总在会议上布置了几项任务，没有指明或暗示谁来做，但强调道：“A项工作，非常重要，需要有有能力的人来完成，不懂的就不要掺和了。”
- D. 妈妈对儿子说：“这次成绩比上次进步了，很棒，但还是有很大的进步空间，需要更加努力。”

109. 社交恐惧症以过分或不合理地惧怕外界某种客观事物或情境为主要表现，患者明知这种恐惧反应是过分的或不合理地，但仍反复出现，难以控制。

根据上述定义，下列属于社交恐惧症的是（ ）

- A. 小花春节放假就一直宅在家里，父母叫他去走亲戚，她说觉得繁琐，一点都不想去
- B. 小红害怕与同学接触，觉得在别人眼中自己是一个“怪人”，尽管她也尝试用理智

说服自己但依然无效

C. 小明每到节假日就喜欢一个人呆在房间玩游戏，他觉得玩游戏比出去人挤人舒服多了

D. 小李一直想买车，因为觉得地铁人太多了，每天挤地铁很累

110. 隐喻是通过另一类事物来理解和经历某一类事物的思维现象，是一种认知方式，颜色隐喻是透过颜色来表达新的概念，映射原本没有颜色的事物的认知方式。它是从颜色域到其他认知域的映射。

根据上述定义，下列不属于颜色隐喻的是：

- A. 用黑色表示非法市场
- B. 用绿色表示安全通行
- C. 用蓝色表示天空大海
- D. 用黄色表示污秽言语

111. 自我服务偏见指把自己的成功归于内因，把自己的失败归咎于外因。

下列选项中属于“自我服务偏见”的是：

- A. 虞某的《大学物理》考了 59 分，他觉得自己的运气实在太差
- B. 何某认为自己比邻居更健康，其原因是邻居经常窝在家里不锻炼身体
- C. 于某负责的产品在某地一直打不开销路，他认为其原因是自己能力不足
- D. 某品牌年终总结会上，大家一直认为该品牌产品销量大增的原因是市场需求量大

112. 邻近性因素通常是指时空距离因素，距离越接近，交往越容易，交往的频率就可能高，就越容易建立和发展良好的人际关系，也就越能够提高人们相互之间的喜欢程度。

根据上述定义，下列体现邻近性因素的是：

- A. 君子和而不同，小人同而不和
- B. 物以类聚，人以群分
- C. 爱屋及乌
- D. 远亲不如近邻

113. 鳄鱼法则：来源于这样一种场景认知，假定一只鳄鱼咬住你的脚，如果你用手去试图挣脱你的脚，鳄鱼便会同时咬住你的脚与手。你愈挣扎，就被咬住得越多。所以万一鳄鱼咬住你的脚，你唯一的办法就是牺牲一只脚。

下列属于鳄鱼法则的是（ ）

- A. 朋友约小李明天一起去爬山，但小李又不知道是否需要加班，所以一直没有答应
- B. 小张参加辅导班后成绩一直没有提升，母亲为了让他节省时间去做自己感兴趣的事情，就帮他及时退出了辅导班
- C. 小王每天坚持基金定投，以此来平衡长期的亏损
- D. 由于最近市场行情不好，张伟的股票一直在往下跌，但他不忍心赔本卖掉

114. 典范借鉴，是指以改善自身业绩为目的，从他人那里发现、学习并应用最佳做法的过程。下列属于典范借鉴的是（ ）。

A. 某企业吸取了国外同行先进的管理经验，使得企业效益得到很大的提高

B. 为减少我国药品的进口量，国家从国外引进先进的生物制药生产线，成功实现了某些药品的国内生产

C. 洋务运动中的“西学为用，中学为体”

D. 李村养殖业发展的很好，隔壁的王村也开始搞养殖业

115. 危机管理策划，是指为防止爆发危机，或者危机发生后为减少、消除危机带来的风险与损失，通过策划手段使人更有效地掌握事物和社会舆论的一些办法与措施的综合过程。

根据上述定义，下列不属于危机管理策划的一项是（ ）。

A. 某企业因负债累累，无力清偿到期债务，向法院提出破产申请

B. 小王参加高考，特意买了两只铅笔以备万一

C. 听到海啸警报后，海边的游客飞快地向高处撤离

D. 面对突如其来的地震，小张被震倒在地，所幸躲过一劫

116. 人事外包，又称人力资源外包，是企业根据需要将某一项或几项人力资源管理工作或职能外包出去，交由其他企业或组织进行管理，以降低人力成本，实现效率最大化。根据企业的不同需求和发展的不同阶段，人力资源外包的内容也会从诸如发放工资、代缴社保金等事物性工作逐渐到包括人力资源规划、制度设计与创新、流程整合、薪资调查及方案设计等方方面面。

根据以上定义，下列选项不属于人事外包的是（ ）。

A. 某进出口贸易公司在人力资源发展规划方面，都交由“致信管理咨询公司”进行人事政策、法规咨询、薪资调查等方面的工作

B. 由于工作需要，张某从一高校借调到省教育厅工作两年，期间张某的工资发放和社保金的缴纳由省教育厅进行暂时管理

C. 某外资公司为提高公司的薪酬竞争力，授权一家人力资源咨询机构对该行业的岗位薪酬做一个实际调查，以制定具有竞争力的薪酬制度

D. 卢某和两位同学合开了一家网络公司开始创业，由于人手不够，他们将招录新员工的任务委托给了市人才交流中心，代为办理新员工的招聘，录用，调档等手续

117. 蘑菇管理是许多组织对待初出茅庐的一种管理方法，初学者被置于阴暗的角落（不受重视的部门，或打杂跑腿的工作），浇上一头大粪（无端的批评、指责、代人受过），任

其自生自灭(得不到必要的指导和提携)。“蘑菇”的经历能够帮助年轻人消除不切实际的幻想，对形形色色的人与事物有更深的了解，为今后的发展打下坚实的基础。

根据上述定义，下列不属于蘑菇管理的是：（ ）

- A. 某五星级酒店餐厅的厨师刚入职时切葱姜蒜至少半年
- B. 小高跟着师傅学木匠，近一年的时间里，师傅只让他整理各种工具
- C. 李雷自己开了一家烟酒店，十几年来勉强维持生计，至今未能买房娶妻
- D. 小马从厦门大学会计学专业毕业后，在一家会计师事务所工作，每天的主要工作就是接待来访人员、接打电话、打扫卫生等，一直持续了三年

118. 习惯权利是指人们在长期的社会生活过程中形成的或从先前的社会传承下来的自发性的权利，表现为群体性，重复性，自由行动的一种权利，根据上述定义，下列属于习惯权利的是（ ）

- A. 儿童接受义务教育
- B. 网上购物
- C. 学校举行升旗仪式
- D. 过年贴春联

119. 彼得原理，是指在各种组织中，由于习惯于对在某个等级上称职的人员进行晋升提拔，因而雇员总是趋向于被晋升到其不称职的地位。根据上述定义，下列符合彼得原理的是（ ）。

- A. 李某，48岁，某高校的著名教授，中国共产党优秀党员，由于出色的学术能力，被晋升为学校科研处处长，上任后工作业绩斐然
- B. 王某，43岁，某食品企业的技术骨干，因技术能力出色而被老板提拔为该厂副总，上任后负责管理车间，但在他的领导下车间工作变得很混乱
- C. 洪某，25岁，某高校研究生毕业，被某公司雇佣后，在工作岗位处理人际关系一塌糊涂，最后被公司解聘
- D. 钟某，21岁，某高校的短跑运动员，近期因刻苦训练，成绩提高很快，被主教练作为重点

120. 组织承诺，指员工对组织及其目标的认同，包括信任并接受组织的目标和价值观，愿意为组织出力，渴望保持组织成员资格等。下列不属于组织承诺的是（ ）

- A. 网络公司的小苏工作勤奋，富有热情，他觉得公司的目标实现之时，就是他个人的价值实现之日
- B. 成某应聘到一家效益较差的制衣公司后，觉得有责任帮助公司走出困境，经过交流，他与老板达成转产共识，结果新产品上市后供不应求
- C. 商场营业员李姐认为，对工作有利的，对自己也有利；不重视自己的工作就是不尊

敬自己，也绝不可能把工作做好

D. 酒店工作的小郑时刻保持着整洁，她认为这既是对客人的尊重，也是对自己的尊重

逻辑判断。每道题给出一段陈述，这段陈述被假设是正确的，不容置疑的，要求你根据这段陈述，选择一个答案。注意：正确的答案应与所给的陈述项符合，不需要任何附加说明即可以从陈述中直接推出。

121. 小方在计算机安全中心存储了用户名、账户密码和指纹密码三项信息。当登陆操作系统时，安全中心首先要鉴别这台计算机的指纹密码是否正确，输入的用户名是否存在，账户密码是否正确。如果三项信息均正确，则允许登陆；如果以上信息有一项不正确，那么安全中心就会拒绝这个用户从这台计算机登陆。小方输入的用户名是正确的，但是安全中心拒绝小方登陆。由此可以推出（ ）。

- A. 小方输入的账户密码和指纹密码都是错误的
- B. 如果小方的指纹密码是错误的，那么他输入的账户密码是正确的
- C. 如果小方的账户密码是正确的，那么他输入的指纹密码是错误的
- D. 只有小方输入的账户密码是正确的，他的指纹密码才是正确的

122. 有人说，工作的时候，我们要将重要事务放在主要位置。重要事务是必要条件，关系着一件事情成功与否。重要的事务没做好，一定不成功。但是，细节也是很重要的，细节是成功的充分条件，同样也与一件事情成功与否相关。一个成功的人是能够协调好重要事务与细节的关系的。由此可以推出（ ）。

- A. 成功并不代表着所有细节都处理好了
- B. 如果不成功则说明重要事务没有做好
- C. 成功的前提条件是既要做好重要事务，又要处理好细节
- D. 虽然处理好了细节，但没做好重要事务，也不一定成功

123. 生物处于污染条件下，可以通过介质固定、代谢解毒、分室作用等过程将污染物在体内富集，解毒。其中生物的解毒能力是生物抗性的基础，解毒能力强的生物都具有抗性，但解毒能力不是抗性的全部，抗性强的生物不一定解毒能力就强。由此可以推知（ ）。

- A. 解毒能力不强的生物不具有抗性
- B. 具有抗性的生物一定具有较强的解毒能力
- C. 生物可将污染物富集、解毒，所以生物能在污染环境下生存
- D. 不具有抗性的生物解毒能力一定不强

124. 小李约小红这周末去看电影，但小红说：“如果这个周末我们都不用加班或者小钱也去看电影，那我就去”，在（ ）的情况下可以推出小红这个周末

- A. 小红这个周末要加班
- B. 小李这个周末要去看电影
- C. 小钱这个周末要加班
- D. 小钱这个周末要去看电影

125. 甲和乙今年都报考了研究生，关于他们的考试有如下四个断言：

- ①他们俩人至少有一个考上
- ②甲并不必然考上
- ③乙确实考上了；
- ④并非是甲可能没考上。

最后录取结果表明：这四个断言中有两个是真的，两个是假的。则下面哪一个结果可以从上述条件推出：

- A. 甲考上了，乙没考上
- B. 甲和乙都考上了
- C. 甲和乙都没考上
- D. 乙考上了，甲没考上

126. 新入职的张、王、李、赵、陈 5 人将被分配到公司的财务部、人事部等 5 个部门，每个部门 1 人。已知，

- (1) 张、王将被分配到财务部、后勤部或者办公室；
- (2) 李、陈将被分配到人事部或者后勤部；
- (3) 李、赵将被分配到后勤部、研发部或者财务部。

根据以上信息，可以得出下列（ ）项。

- A. 张被分配到财务部
- B. 王被分配到办公室
- C. 赵被分配到研发部
- D. 陈被分配到后勤部

127. 有的做事的人不能领取工钱。

由此可以推出（ ）

- A. 做了事的人不能领取工钱
- B. 只有做了事的人才能取工钱
- C. 有的不能领工钱的人一定做过事
- D. 能领工钱的人一定做过事

128. 不是所有的过程都有结局，不是所有的努力都有结果，这句话告诉我们（ ）

- A. 即使付出再多也不会有收获 B. 尽管付出了，也不一定有收获
C. 有付出就一定有收获 D. 有时候我们收获的比付出的更多

129. 通过调查得知，并非所有职务犯罪人员都有徇私舞弊的行为，如果上述调查的结论是真实的，下列选项一定为真的是（ ）。

- A. 多数职务犯罪人员都有徇私舞弊的行为
B. 所有职务犯罪人员都没有徇私舞弊的行为
C. 有的职务犯罪人员没有职务徇私舞弊的行为
D. 有的徇私舞弊的行为不属于职务犯罪

130. 某地楼盘在建设过程中，由于施工方赶工期，缺少必要的检查和监管，发生了一起严重的安全事故，关于这起事故发生的原因，甲、乙、丙、丁四位主管人员进行了如下分析，

- 甲，造成该事故的原因只是设备问题；
乙，造成该事故的原因只是设备问题，人为操作是规范的；
丙，有人违规操作，设备是安全可靠的；
丁，如果造成事故的原因是设备问题，那么肯定有人违规操作。

如果上述论述中只有一个人说的是对的，那么下列（ ）项肯定是真的。

- A. 甲的论述是对的，没有人违规操作
B. 乙的论述是对的
C. 丙的论述是对的，有人违规操作
D. 丁的论述是对的，但没有人违规操作

131. 某珠宝店失窃，甲、乙、丙、丁四人涉嫌被拘审。四人的口供如下：

- 甲：案犯是丙。
乙：丁是罪犯。
丙：如果我作案，那么丁是主犯。
丁：作案的不是我。

四个口供中只有一个是假的，

如果上述断定为真，那么以下哪项是真的（ ）

- A. 说假话的是甲，作案的是乙
B. 说假话的是丁，作案的是丙和丁
C. 说假话的是乙，作案的是丙

D. 说假话的是丙，作案的是丙

132. 小王准备去他即将上班的学校报到，走到一个三岔路口遇到一个修电动车的老人，告诉他前面两位学生就是那个学校的，并且他们一个人说真话，一个人说假话。小王追上去后，对那两个学生同时问了一句：“四加三等于八，左边这条路通往学校，是吗？”当两位学生回答完后，他毫不犹豫地走了右边这条道。

据此，可以推断下列哪项是这两位学生的回答？（ ）

- A. 一位同学回答了，另一位同学没有回答
- B. 一位同学说是，另一位同学说不是
- C. 两位同学都说不是
- D. 两位同学都说不是

133. 村长在一次美丽乡村动员大会结束后宣布：“此次提出的关于村里垃圾处理方案得到了认可，全体村民致通过了该方案。”会后，小张就此事进行了调查，发现村长说的并非事实。

如果小张的调查结果属实，以下哪项也必然为真？（ ）

- A. 全体村民都不同意通过该方案
- B. 部分村民同意通过该方案
- C. 有些村民同意通过该方案，有些村民反对通过该方案
- D. 有村民不同意通过该方案

134. 一个店主请了四个工人，其中一个工人偷了该店主的手机。店主对他们进行了询问，其中只有一个工人说了真话。甲：“乙偷了手机”；乙：“丙偷了手机”；丙：“甲或乙偷了手机”；丁：“乙或丙偷了手机”。根据以上陈述，下列推断错误的是（ ）

- A. 甲没有偷手机 B. 乙没有偷手机
- C. 丙说了真话 D. 丁说了假话

135. 来自东南西北的赵钱孙李四个人的职业各不相同，已知东部人是医生，西部人年龄最小而且是警察，孙比东部人年龄大，钱是法官而且是南部人的朋友，李从未学过医。由此可知孙是（ ）

- A. 南部人 B. 西部人
- C. 北部人 D. 无法确定

136. 宋江、林冲和武松各自买了一辆汽车，分别是宝马、奥迪和陆虎。关于他们购买的汽车品牌，吴用有如下猜测“宋江选的是陆虎，林冲不会选奥迪，武松选的肯定不是陆虎”，

但是他只猜对了其中一个人的选择。

由此可知 ()

- A. 宋江选的是奥迪, 林冲选的是陆虎, 武松选的是宝马
- B. 宋江选的是陆虎, 林冲选的是奥迪, 武松选的是宝马
- C. 宋江选的是奥迪, 林冲选的是宝马, 武松选的是陆虎
- D. 宋江选的是宝马, 林冲选的是奥迪, 武松选的是陆虎

137. 广深港职业技能大赛中, 广州、深圳、香港各派了若干名选手参加, 比赛的形式是个人赛。赛前四名观众在一起预测比赛结果。甲断言: “传统强队香港队技术过硬, 这次比赛前三名将被他们包揽。”乙断言: “据我观察, 后起之秀深圳队或者广州队的选手能够进前三名。”丙断言: “第一名要么是香港队, 要么是深圳队。”丁断言: “江山代有才人出, 今年前三名香港队最多能占一席。”比赛结束后, 四人发现只有一人的预测是正确的。

以下预测最可能是比赛结果的是 ()

- A. 第一、二、三名均来自香港
- B. 第一名来自香港队, 第二名来自广州队, 第三名来自深圳队
- C. 第一名来自深圳队, 第二名来自香港队, 第三名来自广州队
- D. 第一名来自广州队, 第二名来自香港队, 第三名来自香港队

138. 甲乙丙丁四人的车分别为白色、银色、蓝色和红色。在问到他们各自车的颜色时甲说: “乙的车不是白色。”乙说: “丙的车是红色的。”丙说: “丁的车不是蓝色的。”丁说: “甲、乙、丙三人中有一个人车的颜色是红色的, 而且只有这个人说的是实话。”如果丁说的是实话, 那么以下说法正确的是: ()

- A. 甲的车是白色的, 乙车是银色的
- B. 乙的车是蓝色的, 丙车是红色的
- C. 丙的车是白色的, 丁车是蓝色的
- D. 丁的车是银色的, 甲车是红色的

139. 小赵、小张、小王三朋友去参观动物园, 看到一只老虎。小赵说: “这不是东北虎, 也不是华南虎。”小张说: “这不是东北虎, 而是新疆虎。”小王说: “这不是新疆虎, 而是东北虎。”后来, 动物园管理员说: “三人中, 有一个人的两个判断都对; 另一个人的两个判断都错; 第三人的两个判断一对错。”

由此可知 ()

- A. 这只老虎是东北虎

- B. 这只老虎是华南虎
- C. 这只老虎是新疆虎
- D. 上面三种老虎都不是

140. 某高校对英语教学进行了改革，允许任课教师自行确定英语教材；即便是使用学校推荐的教材，任课教师也可以根据各自学生的实际情况自行对所学内容进行增删。

该高校的上述改革措施最可能不利于实现下列（ ）项目标。

- A. 调动该校英语教师参与教学改革的积极性
- B. 提高该校学生在全国统一英语考试中的通过率
- C. 提高该校学生在日常生活和专业学习中的英语水平
- D. 满足该校部分学生对于全国统一英语等级考试的特殊需求

141. 中国福利彩票以“扶老、助残、救孤、济困”为目的，筹集社会资金，兴办残疾人、老年人、孤儿福利事业，帮助那些有困难的人。小张准备买福利彩票“刮刮乐”，官方公布此次中奖率为 $1/5$ 。

这意味着（ ）

- A. 如果小张买 4 张“刮刮乐”，那么这 4 张肯定不会中奖
- B. 如果小张买了 5 张“刮刮乐”中奖一次，那么他再买 5 张将再中奖一次
- C. 如果小张买了 10 张彩票，那么他不可能就中奖一次
- D. 如果小张买了 20 张彩票，那么他可能 1 张也没有中奖

142. 全色盲是一种隐形遗传疾病。这就意味着，一个人必须同时从父母双方继承两条全色盲基因，他才会成为全色盲----如果仅继承了一条，而另一条是正常非色盲基因的话，他将与普通人无异。根据以上陈述，下列推理正确的是（ ）。

- A. 小明的父亲是全色盲，他的爷爷不一定是全色盲
- B. 小明的父亲和爷爷都是全色盲，那么小明也是全色盲
- C. 小明和他的父亲都是全色盲，那么他的母亲是全色盲
- D. 小明的爷爷是全色盲，他的爸爸一定是全色盲

143. 统计显示，失业率和犯罪率正线性相关，说明（ ）

- A. 社会治安与失业率有关
- B. 失业者的犯罪数量大于未失业者
- C. 失业者大多数会犯罪
- D. 犯罪者大多数是失业者

144. 有针对家长的学校教育满意度调查结果显示，全国家长对学校教育的满意度总体呈现“东高西低”的格局，也就是东部地区的家长对学校教育的满意度普遍高于西部地区。

下列（ ）项无法对上述现象做出解释。

- A. 参与调查的东部地区家长人数大于西部地区
- B. 全国学校的教育呈现“东高西低”的格局
- C. 东部地区的家长对于学校教育的要求比西部地区更低
- D. 东部地区在教育方面投入的资源比西部地区更多

145. 许多人并不完全信任任何概率的规律，尽管这一规律一再显示出它的准确性。例如，甚至在学校里研究概率论的人中，也有许多人对乘坐飞机的恐惧超过乘坐汽车，尽管汽车行驶所造成的死亡和重大伤害的概率比飞机航行所造成的率高出二十多倍。

下列选项中，最能解释人们对概率不信任的是（ ）

- A. 对概率规律的充分理解要求具有统计分析方面的知识
- B. 当人们觉得对自己的命运能加以控制的时候，他们往往不充分相信概率
- C. 汽车相撞的概率还不至于大到使许多人不去乘坐它的程度
- D. 汽车所造成的重大伤亡事故大多数不是由汽车自身原因导致的

146. 得道多助，失道寡助。

下列句子与上句逻辑关系相同的是（ ）

- A. 智者乐水，仁者乐山
- B. 玉不琢，不成器；人不学，不知道
- C. 骐骥一跃，不能十步；弩马十驾，功在不舍
- D. 山不在高，有仙则名；水不在深，有龙则灵

147. 春天到了，某小区住在一楼的张大妈将自己住房前的一块绿化带翻整了一下，准备种菜。小区物业的工作人员小赵对此进行了劝阻。

张大妈，“这块地是你们物业的吗？”

小赵，“不是。”

张大妈，“这块地究竟是谁的？”

小赵，“属于全体业主的。”

张大妈，“既然这块地属于业主，我是业主，那么这块地就属于我。我为什么不能在上面种菜？”

下列哪项与张大妈的论证方式最为相似？

- A. 恐龙属于远古生物，翼龙是恐龙，所以翼龙属于远古生物

- B. 小李做事认真，小王做事也很认真，所以小李和小王是一类人
- C. 未来属于青年，小陈是青年，所以未来属于小陈
- D. 2 是自然数，自然数有无限多个，所以 2 有无限多个

148. 学生上完体育课后回到教室，有 23 人喝了饮水机里的纯净水，其中 8 人很快产生了腹泻。饮水机里的水马上被送去检验，检验的结果不能肯定其中是否有造成腹泻的有害物质。因此，喝了饮水机里的纯净水不是造成腹泻的原因。

如果上述检验过程没有问题，则下列哪项对上述论证的评价最为恰当？

- A. 题干的论证有漏洞，因为它没有考虑到另一个事实：那些没有喝饮水机里的水的同学都没有腹泻
- B. 题干的论证有漏洞，因为它把缺少证据证明某种情况存在，当作有充分证据证明某种情况不存在
- C. 题干的论证有漏洞，因为它没有利用一个有力的证据：为什么有更多的人喝了饮水机里的水却没有腹泻
- D. 题干的论证有漏洞，因为它没有指出造成腹泻的真正原因

149. 甲牌石油公司连续三年在全球 500 家最大公司净利润总额中位列第一，其主要原因是该公司有更多的国际业务。

下列哪项如果为真，则最能支持上述说法的是（ ）

- A. 与甲牌公司规模相当但国际业务少的石油公司的利润都比甲牌石油公司低
- B. 历史上全球 500 家大公司的净利润冠军都是石油公司
- C. 近三年来石油和成品油的价格都很稳定
- D. 近三年来全球最大的 500 家公司都在努力走向国际化

150. 张某是住校生，所以张某不是文科班的。得出上述结论的前提是（ ）。

- A. 部分住校生不是文科班的
- B. 所有不是文科班的都是住校生
- C. 所有文科班的都是住校生
- D. 所有文科班的都不是住校生

在学习中遇到困难，可以到微博咨询老师，成公小仙女在线答疑哦~

更多干货资料、学习礼包，尽在北京成公教育官方微博等你！

参与官微活动，还有机会免费领取纸质教材、名师高端课程、精美礼品！



感恩



感恩



北京成公教育



感恩

成公教育
感恩 · 极致 · 口碑